


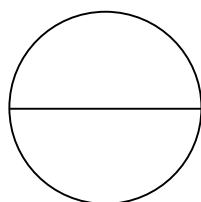
1. Kui suur osa koogist on eraldatud?

Väljenda see osa murruna.




2. Kirjuta murru nimetajad.

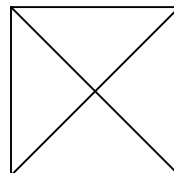
Värvi kujundist nõutud osa.




$\frac{1}{\dots}$



$\frac{4}{\dots}$



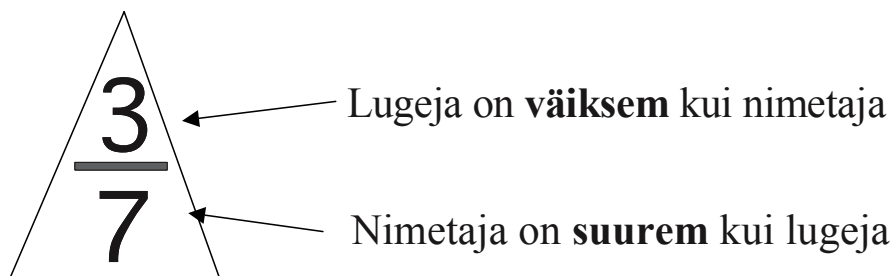
$\frac{3}{\dots}$



$\frac{5}{\dots}$

Kirjuta murrud tabelisse.

Murd	Lugeja	Nimetaja	Võrdle murru lugejat ja nimetajat (>, <, =)
$\frac{1}{2}$	1	2	$1 < 2$



Kui murre lugeja on väiksem kui nimetaja, siis on see lihtmurd.



3. Kirjuta neli lihtmurdu, mille lugeja on 7.

.....

4. Kirjuta neli lihtmurdu, mille nimetaja on 7.

.....

5. Kirjuta kolm lihtmurdu, mille nimetaja on paaritu arv.

.....

6. Kirjuta neli lihtmurdu, mille lugeja jagub 5-ga.

.....

7. Kirjuta viis lihtmurdu, mille lugeja on 1 ja nimetaja jagub 2-ga.

.....