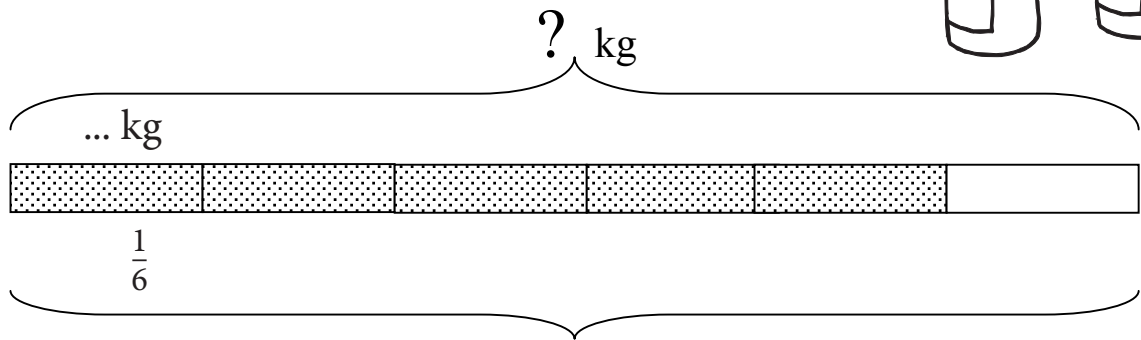


Arvu leidmine mitme osa järgi


1. Vanaema keetis suvel palju moosi.

Sügiseks oli $\frac{5}{6}$ suhkrukoti sisust ära tarvitatud.

Mitu kilogrammi suhkrut oli kotis,
kui vanaema kasutas ära 40 kilogrammi?



$$\frac{5}{6} = \dots \text{ kg}$$







📖 2. Varblase keskmine eluiga on 8 aastat.

See on $\frac{4}{5}$ kääri keskmisest elueast,

$\frac{2}{5}$ luige keskmisest elueast

ja $\frac{2}{3}$ tuvi keskmisest elueast.

Kui vanaks keskmiselt elavad kääri, luige ja tuvi?



.....

.....

.....

.....

📖 3. Ema tellis Hobby Halli kataloogist lillesibulaid.

Tulbisibulaid oli pakis 20.

See moodustab nartsissisibulate arvust $\frac{2}{3}$.

Krookusesibulaid oli $\frac{6}{7}$ nartsissisibulate arvust.

Mitu sibulat oli pakis,

kui hüatsinte oli $\frac{3}{4}$ tulbisibulate arvust?

