



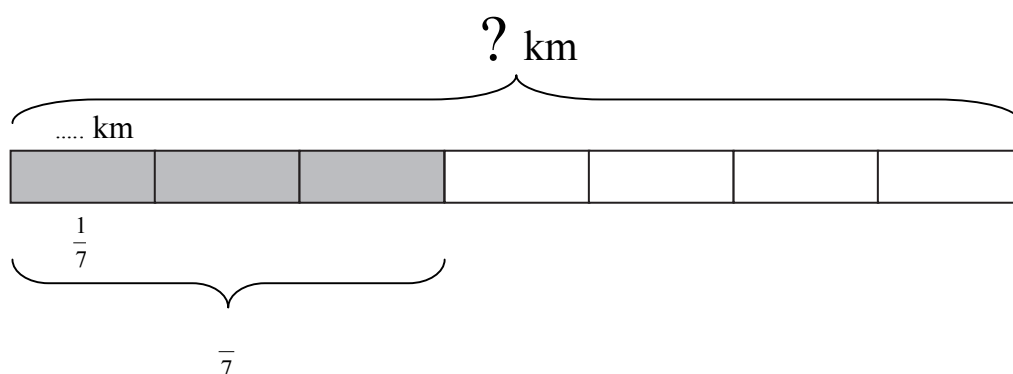
1. Tõnu isa töötab autojuhina.

Ta asus esmaspäeval kaubaga teele ja läbis sel päeval 600 km.

See on  $\frac{3}{7}$  kogu teest.




Kui pika maa peab ta läbi sõitma, et kaup üle anda?



 2. Täida lüngad.

- 1) Kui  $\frac{1}{4}$  kg komme maksab 9 krooni,  
siis 1 kg komme maksab ..... kr.
- 2) Kui  $\frac{3}{4}$  kg banaane maksab 18 krooni,  
siis 1 kg banaane maksab ..... kr.
- 3) Kui  $\frac{3}{5}$  kg õunu maksab 9 krooni,  
siis 1 kg õunu maksab ..... kr.
- 4) Kui  $\frac{3}{7}$  kg apelsine maksab 9 kr,  
siis 1 kg apelsine maksab ..... kr.

 3. Isa käis Miku ja Märdiga osturallil.

Ta ostis Mikule 630 krooni maksva rula.

Rula ostmiseks kulus  $\frac{3}{5}$  kogu kaasasolevast rahast.

Märt tahtis arvutimängu, mille hind oli 470 krooni.

Kas isal jätkus raha poiste soovide täitmiseks?

Mitu krooni jäi üle või tuli puudu?

