



## 1. Kirjuta puuduvad ilmakaared.



## 2. Inglise keeles nimetatakse ilmakaari North, South, East, West. Tuleta meelde, kuidas märgitakse ilmakaari tähtlühenditega. Kirjuta puuduvad ilmakaared.



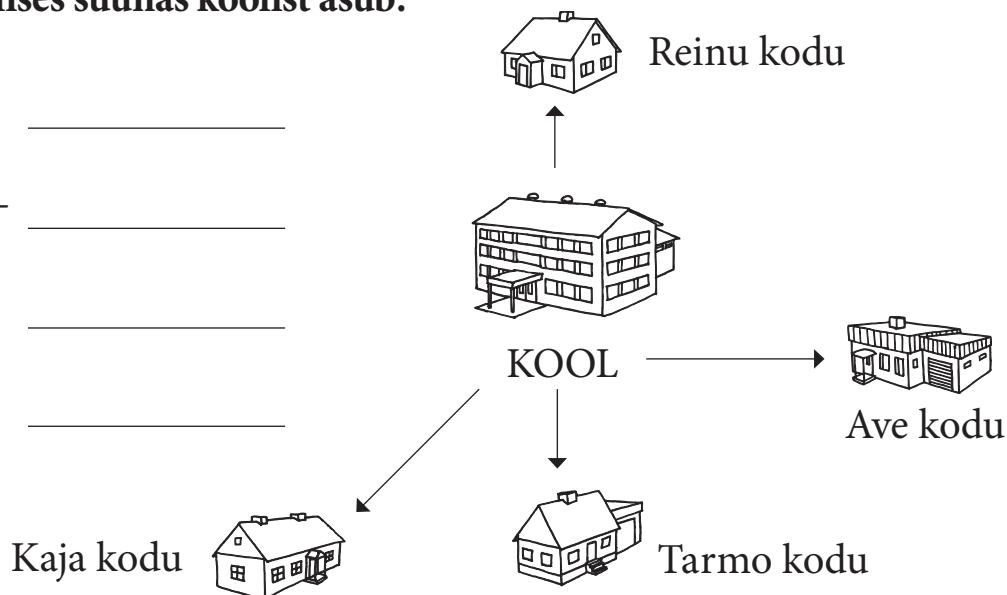
## 3. Kirjuta, millises suunas koolist asub:

Reinu kodu - \_\_\_\_\_

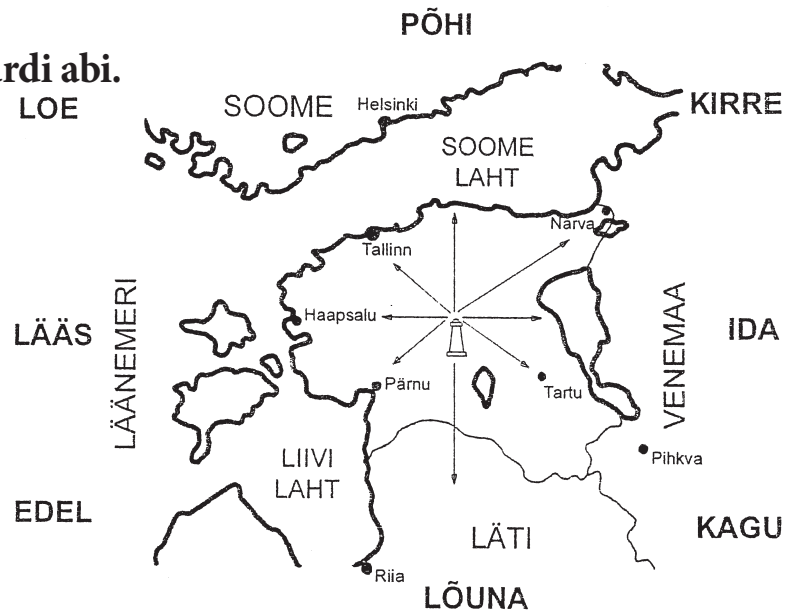
Tarmo kodu - \_\_\_\_\_

Kaja kodu - \_\_\_\_\_

Ave kodu - \_\_\_\_\_

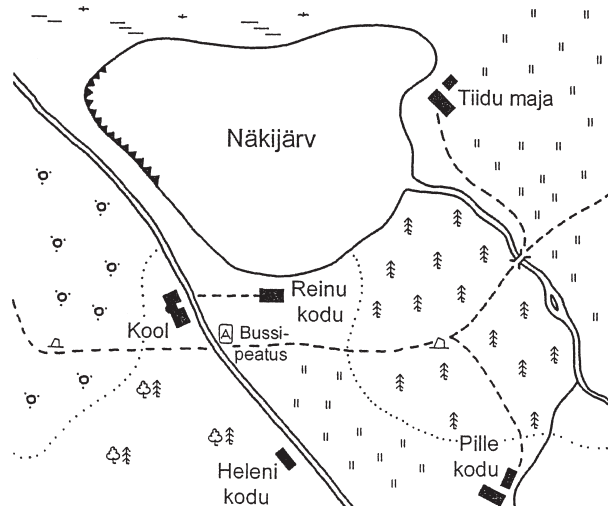


## 4. Täida lüngad. Kasuta kaardi abi.



Eestist \_\_\_\_\_ poole jääb Läänemeri. Läti jääb Eestist \_\_\_\_\_ poole. Eestist põhjas asub \_\_\_\_\_ laht. Venemaa jääb Eestist \_\_\_\_\_ poole. Edelast piirab Eestit \_\_\_\_\_ laht. Eesti suuremad saared asuvad Eesti \_\_\_\_\_ rannikul. Peipsi järv asub Eesti \_\_\_\_\_ piiril. Pealinn Tallinn on Eesti \_\_\_\_\_ osas. Tallinn asub minu kodukohast \_\_\_\_\_ suunas.

## 5. Täida plaani järgi lünktekst.



Näkijärve läänekaldal on \_\_\_\_\_. Järvest põhja pool on suur \_\_\_\_\_. Tiit ja Rein elavad järve lähedal. Tiidu maja on järvest \_\_\_\_\_ pool \_\_\_\_\_ ääres. Tiidu maja juurest sillani läheb \_\_\_\_\_. Jalgrada hargneb kaheks suure \_\_\_\_\_ juures. Üks haru viib \_\_\_\_\_ koduni, teine \_\_\_\_\_. Reinu kodu jääb järvest \_\_\_\_\_ poole. Kool asub \_\_\_\_\_ ääres.