


 2. Lõpeta 3-liikmelise perekonnale restoranis esitatud arve.

Mitme krooni eest sõi iga pereliige?

3 šnitslit	97,2 kr
3 seljankat	43,5 kr
<u>3 salatit</u>	<u>24,6 kr</u>
 kr

 3. Lauri tädi elab 19,5 km kaugusel väikeses metsakülas.

Lauri sõidab jalgrattal kiirusega 13 kilomeetrit tunnis.

Mitu tundi kulub Lauril tädi juures käimiseks,

kui ta viibib tädil külas 1,5 tundi?



 4. Lapsed käisid isaga kalal.


Laste saagiks oli 8 ahvenat ja 6 särge.


Iga ahven kaalus 0,075 kg ja särjed kaalusid kokku 0,36 kg.

Isa püüdis vaid ühe 1,34 kilogrammise haugi.

Kelle saak oli raskem?

Kui palju raskem?



 5. Annekese 100-grammine šokolaad maksab 10,9 krooni,

50-grammine tahvel aga 5,9 krooni.

Kas on kasulik osta üks suur või kaks väikest šokolaadi?

Palju on võimalik raha kokku hoida?