

1. Kirjuta joonele leppemärkide nimetused.



2. Joonista leppemärgid.



soo




järsak



mets

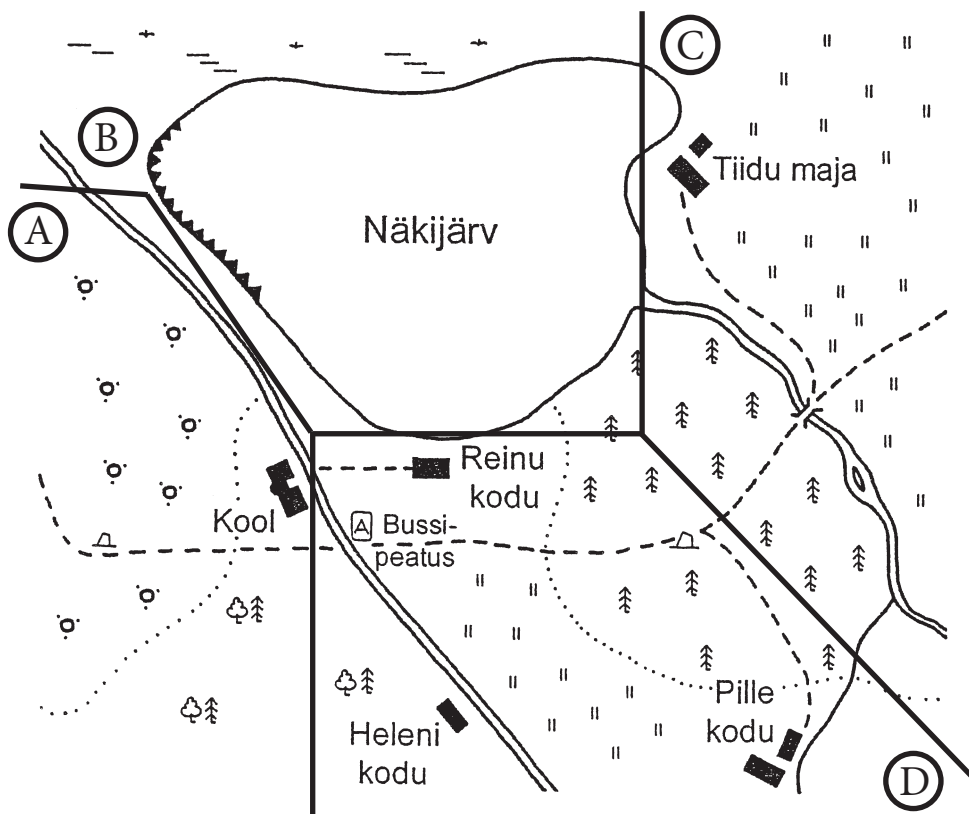


maja



maantee

3. Kirjuta, mida on leppemärkidega kujutatud.



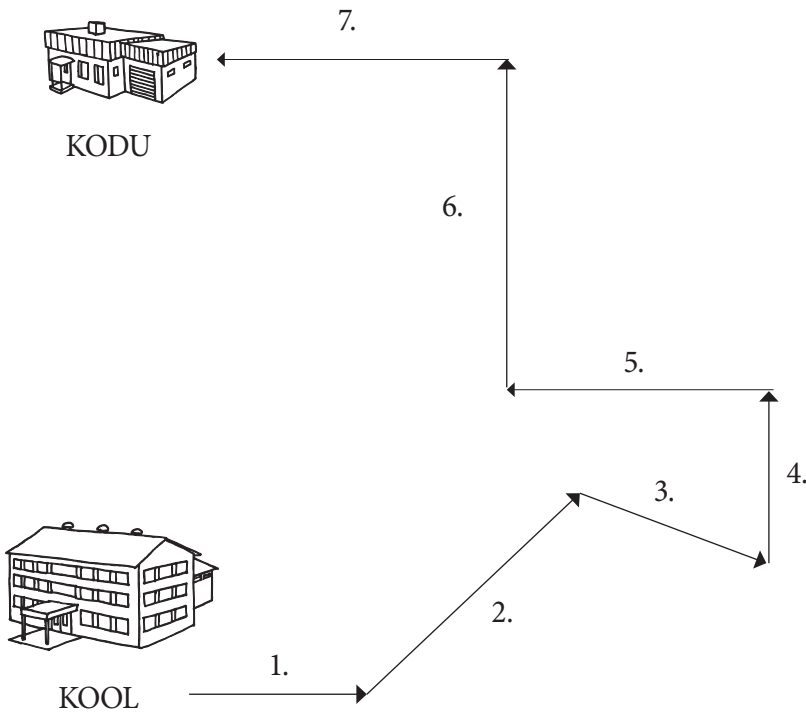
(A)

(B)

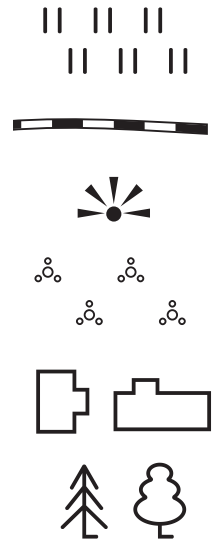
(C)

(D)

4. Kirjuta, millises suunas kulgeb Jaagu kodutee.
Märgi numbrite juurde ilmakaarte nimetused.



1. _____
2. _____
3. _____
4. _____
5. _____
6. _____
7. _____



5. Joonista kirjelduse järgi leppemärkidega plaan.

Metsast läheb läbi raudtee.

Metsa serval hargneb raudtee kaheks haruks.

Üks haru läheb üle niidu.

Teine haru läheb põõsastikust läbi ja kahest majast mööda.

Majade juures on vaatetorn.

