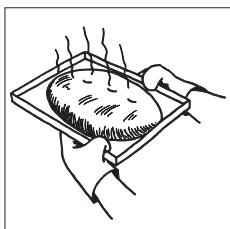




II MEELELUNDID JA NÄRVISÜSTEEM

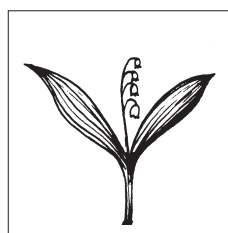
1. Kirjuta, milliste meeltega tajud.

Meeled on kuulmine, nägemine, haistmine, maitsmine, kompimine.









2. Loomadel on huvitavaid meelelundeid.

Ühenda laused joonega.



Kala küljejooneelund

püüab lõhna.




Kameeleoni silmad

tunneb veesurvet.



Kotka silmad

võivad liikuda erinevas suunas.



Mao kaheharuline keel

liikuvat saaki..



Muti väikesed silmad on

näevad väga hästi.

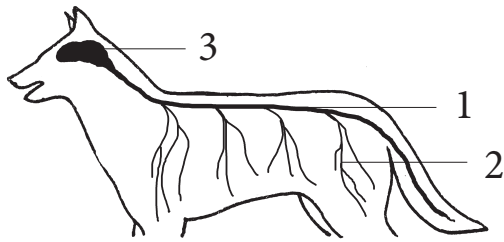


Konn näeb ainult

kaetud nahakurruga.

3. Kus asub inimese kompimismeel?

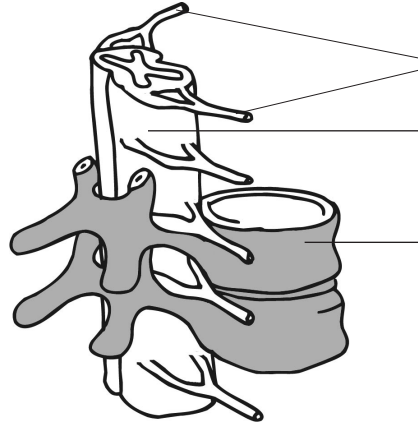
4. Kirjuta jooniselt lausesse õiged numbrid.



Närvisüsteem koosneb peaajust _____ ,
seljaajust _____ ja närvidest _____ .

5. Kirjuta joonisele õiged numbrid.

- 1) seljaaju
- 2) närvid
- 3) selgroolülid



6. Leia tulbast lünkadesse õige sõna.

Peaaju paikneb _____

Seljaaju paikneb _____

Seljaajust väljuvad elunditesse _____

Silmad, kõrvad ja keel on _____

Meeleelundid võtavad keskkonnast _____

Info liigub mööda närve _____

selgrookanal

koljuõõnes

infot

ajusse

meeleelundid

närvid

7. Loe jutuke.

Muriga juhtus õnnetus. Ta sai autolt löögi.

Nüüd Muri tagajalad enam ei liigu. Ta ei tunne nendega ka valu.

Arst ütles, et Muri selgroog sai vigastada.

Vaata viienda ülesande joonist.

Arutle paarilisega, kuidas selgroo vigastus mõjub jalgadele.

8. Mis võib juhtuda, kui hüppad pea ees vette?
