

Maa on \_\_\_\_\_ kujuline.

Maa tundmaõppimiseks on valmistatud \_\_\_\_\_ .

Gloobus on Maa \_\_\_\_\_ .

Gloobus on Maa sarnane, kuid Maast miljoneid kordi \_\_\_\_\_ .

Maapinna kõrgusi ja merede sügavusi kujutatakse gloobusel (millega?)

\_\_\_\_\_ .

Vesi on gloobusel värvitud \_\_\_\_\_ .

Rohelised, kollased ja pruunid toonid tähistavad \_\_\_\_\_ .

**Kirjuta joonisele telg, põhjapoolus ja lõunapoolus.**

Gloobus pöörleb ümber oma \_\_\_\_\_ .

Telje otspunktid gloobuse pinnal on \_\_\_\_\_ .

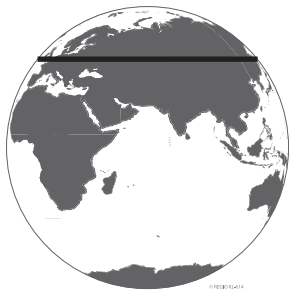
Need on \_\_\_\_\_ poolus ja \_\_\_\_\_ poolus.



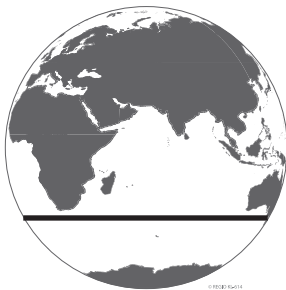
Poolustest võrdsel kaugusel on gloobusel ringjoon, mida nimetatakse

\_\_\_\_\_ .

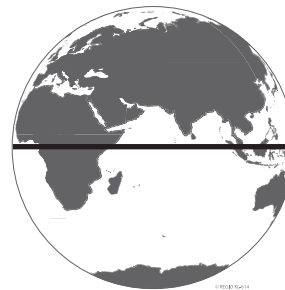
Laste joonised kujutavad ekvaatori asukohta gloobusel.



Kadri



Tõnu



Paul

**Kelle joonis on õige?**

Miks? \_\_\_\_\_  
\_\_\_\_\_  
\_\_\_\_\_

Ekvaatorist \_\_\_\_\_ pool asub põhjapoolus

Lõuna pool asub \_\_\_\_\_ poolus.

**Kirjuta joonisele ekvaator, telg, põhjapoolus ja lõunapoolus.**

